

5年生・計算チェックテスト No. 1 (1/9)

小数のかけ算

組 番 名前

めあて : 整数×小数 の計算ができる。

計算をしましょう。

①  $20 \times 1.4$

②  $30 \times 2.3$

③  $50 \times 7.5$

④  $80 \times 5.9$

⑤  $110 \times 3.2$

⑥  $130 \times 4.7$

⑦  $250 \times 2.2$

⑧  $500 \times 3.4$

5年生・計算チェックテスト No. 2 (2/9)

小数のかけ算

組 番 名前

めあて : 小数×小数 の計算ができる。

計算をしましょう。

①  $1.2 \times 2.4$

②  $3.5 \times 3.5$

③  $4.7 \times 2.3$

④  $3.1 \times 0.8$

⑤  $2.9 \times 0.5$

⑥  $0.3 \times 1.7$

⑦  $0.9 \times 4.2$

⑧  $0.6 \times 0.8$

5年生・計算チェックテスト No. 3 (3/9)

小数のかけ算

組 番 名前

めあて：小数(100分の1の位まで)×小数 の計算ができる。

計算をしましょう。

①  $1.32 \times 4.2$

②  $5.24 \times 2.3$

③  $4.27 \times 5.8$

④  $2.96 \times 0.4$

⑤  $6.92 \times 0.7$

⑥  $2.03 \times 1.7$

⑦  $4.08 \times 3.6$

⑧  $0.76 \times 0.9$

5年生・計算チェックテスト No. 4 (4/9)

小数のかけ算

組 番 名前

めあて：小数×小数(100分の1の位まで)の計算ができる。  
積の下の位が0になるかけ算ができる。

計算をしましょう。

①  $1.54 \times 2.43$

②  $0.62 \times 4.51$

③  $3.27 \times 2.08$

④  $0.96 \times 0.07$

⑤  $2.45 \times 1.88$

⑥  $0.94 \times 4.25$

⑦  $6.05 \times 3.6$

⑧  $0.25 \times 0.08$

5年生・計算チェックテスト No. 5 (5/9)

小数のかけ算

組 番 名前

めあて：積の大きさがわかる。

にあてはまる不等号を書きましょう。

①  $5.24 \times 2.17$    $5.24$

②  $3.14 \times 0.17$    $3.14$

③  $0.6 \times 1.48$    $0.6$

④  $0.75 \times 0.84$    $0.75$

⑤  $5.28 \times 0.61$    $5.28$

⑥  $4.77 \times 0.8$    $4.77$

⑦  $6.04 \times 1.05$    $6.04$

⑧  $0.98 \times 0.02$    $0.98$

5年生・計算チェックテスト No. 6 (6/9)

小数のかけ算

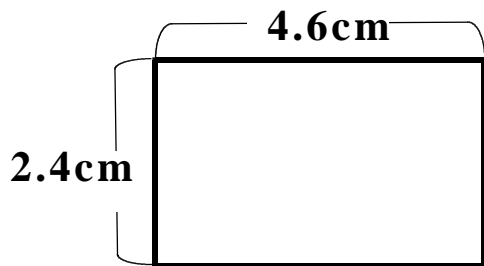
組 番 名前

めあて：小数を使った面積の計算ができる。

次の長方形・正方形の面積を求めましょう。

①

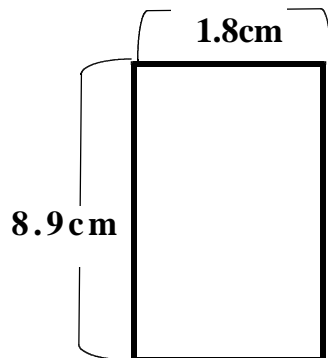
(式)



(答え)

②

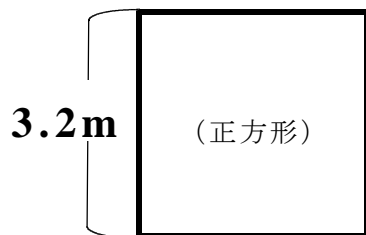
(式)



(答え)

③

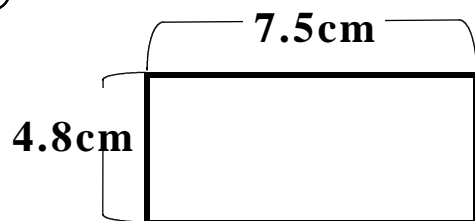
(式)



(答え)

④

(式)



(答え)

5年生・計算チェックテスト No. 7 (7/9)

小数のかけ算

組 番 名前

めあて : 計算のきまりを使って、小数のかけ算ができる。

くふうして計算をしましょう。

①  $9 \times 0.5 \times 0.8$

②  $9.8 \times 0.3 + 9.8 \times 4.7$

③  $3.9 \times 5.8 - 3.9 \times 3.8$

④  $4.2 \times 2.1$

⑤  $8.5 \times 0.9$

5年生・計算チェックテスト No. 8 (8/9)

小数のかけ算

組 番 名前

めあて : 小数のかけ算ができる。

計算をしましょう。

①  $2.18 \times 1.52$

②  $1.07 \times 0.41$

③  $4.83 \times 2.9$

④  $0.45 \times 0.16$

くふうして計算をしましょう

⑤  $3.46 \times 0.84 + 3.46 \times 0.16$

⑥  $4.2 \times 0.9$

⑦ 1 mの重さが3.25 kgの針金があります。この針金2.14 mの重さは何kgでしょうか。

(式)

(答え)

---



5年生・計算チェックテスト No. 9 (9/9)

小数のかけ算

組 番 名前

めあて : 小数のかけ算のたしかめ。

計算をしましょう。

①  $3.34 \times 0.23$

②  $0.65 \times 0.44$

③  $1.89 \times 6.5$

にあてはまる不等号を書きましょう。

④  $3.76 \times 0.99$    $3.76$

⑤  $0.09 \times 1.05$    $0.09$

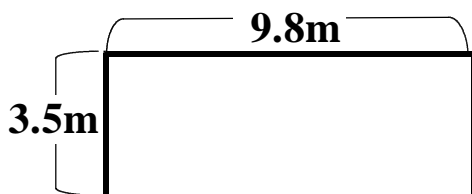
くふうして計算をしましょう

⑥  $9.89 \times 6.22 + 9.89 \times 3.78$

⑦  $3.56 \times 7.84 - 3.56 \times 5.34$

下のような長方形の面積を求めましょう。

⑧ (式)



(答え) \_\_\_\_\_