

1年生 けいさんチェックテスト No.1 (1/9)		
たしざん	くみ ばん なまえ	
めあて	たしざんのしきにかくことができる。	

◇ おはなしを しきに かいて けいさんしましょう。

① こうえんに 子どもが 3人います。

6人くると、ぜんぶでなん人に なるでしょうか。

しき\_\_\_\_\_ ことえ\_\_\_\_\_

② すいそうに きんぎょが 7ひき います。

4ひき ふえると、ぜんぶで なんひきに なるでしょうか。

しき\_\_\_\_\_ ことえ\_\_\_\_\_

③ 白い 花が 9本、赤い 花が 8本 さいています。

あわせて なん本 さいて いるでしょうか。

しき\_\_\_\_\_ ことえ\_\_\_\_\_

1年生 けいさんチェックテスト No.2 (2/9)

たしざん	くみ ばん なまえ	
めあて	たしざんができる。	

◇ けいさんをしましょう。

①  $9+4$

②  $8+3$

③  $9+2$

④  $8+4$

⑤  $7+4$

1年生 けいさんチェックテスト No.3 (3/9)

たしざん	くみ ばん なまえ	
めあて	たしざんができる。	

◇ けいさんをしましょう。

①  $3+9$

②  $4+9$

③  $4+8$

④  $5+7$

⑤  $2+9$

1年生 けいさんチェックテスト No.4 (4/9)		
たしざん	くみ ばん なまえ	
めあて	たしざんのしかたをかくことができる。	

◇ 7+8の けいさんの しかたを かんがえましょう。(1)

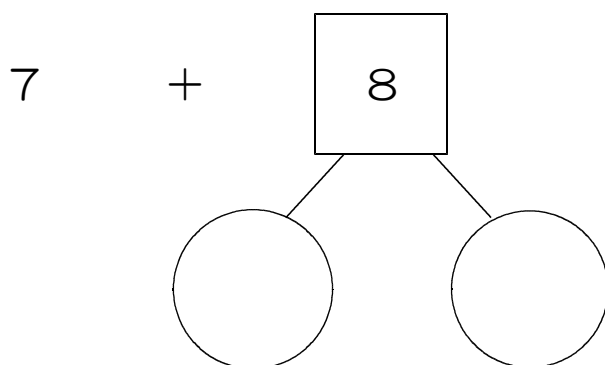
■ 7を 10の まとまりに するには…。

① 7は あと  で 10。

② 9を  と  に わける。

③ 7と  で 10。

④ 10と  で  。



1年生 けいさんチェックテスト No.5 (5/9)		
たしざん	くみ ばん なまえ	
めあて	たしざんのしかたをかくことができる。	

◇ 7+8の けいさんの しかたを かんがえましょう。(2)

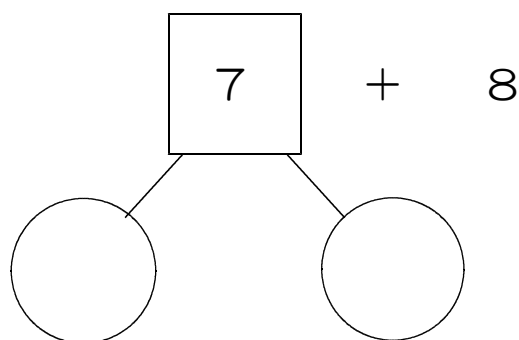
■ 8を 10の まとまりに するには…。

① 8は あと  で 10。

② 7を  と  に わける。

③ 8と  で 10。

④ 10と  で  。



1年生 けいさんチェックテスト No.6 (6/9)

たしざん	くみ ばん なまえ	
めあて	ぶんしょうもんだいをとくことができる。	

① あめが 8こありました。4こもらいました。

ぜんぶで なんこになるでしょうか。

しき

こたえ

---

② どんぐりごまを みきさんは 5こつくりました。

あやさんは 7こつくりました。

あわせて なんこつくれたでしょうか。

しき

こたえ

---

たしざん	くみ ばん なまえ	
めあて	たしざんができる。	

◇ けいさんをしましょう。

①  $8+9$

②  $9+9$

③  $9+7$

④  $6+6$

⑤  $8+6$

1年生 けいさんチェックテスト No.8 (8/9)		
たしざん	くみ ばん なまえ	
めあて	たしざんのもんだいをとくことができる。	

- ① たての かずと よこの かずをたして， こたえをかきましょう。

	4	9	6	3
5				
7				
9				

- ② こたえが 大きい ほうに 〇を つけましょう。

$$5+8 ( \quad ) \quad \text{と} \quad 4+6 ( \quad )$$


$$8+7 ( \quad ) \quad \text{と} \quad 9+4 ( \quad )$$

$$9+6 ( \quad ) \quad \text{と} \quad 18-4 ( \quad )$$



1年生 けいさんチェックテスト No.9 (9/9)		
たしざん	くみ ばん なまえ	
めあて	たしざんのもんだいをとくことができる。	

- ① こたえが 13になる たしざんを ぜんぶ かきましょう。



- ②  $8+7$ の しきになる もんだいを つくりましょう。

